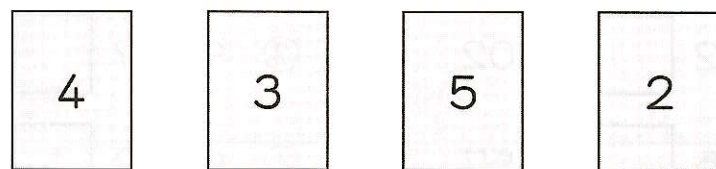


II 下の 4まいのカードをつかって、4ケタの数字を作ります。



- ① 1番大きい数はいくつでしょうか。  
( )
- ② 1番小さい数はいくつでしょうか。  
( )
- ③ 4000よりも大きくて、4000に1番近い数はいくつでしょうか。  
( )
- ④ 3番目に大きい数はいくつでしょうか。  
( )
- ⑤ 3000よりも小さくて、3000に1番近い数はいくつでしょうか。  
( )

### ◇大きな数の計算

つぎのひっ算のしかたを考えましょう。

①  $865 + 746$


②  $1243 - 529$

③  $1000 - 875$

□ つぎの計算をして、答えのたしかめもしましょう。


①  $732+862$

(たしかめ)




②  $962+819$

(たしかめ)




③  $383+619$

(たしかめ)




④  $548+785$

(たしかめ)




⑤  $1358-514$

(たしかめ)




⑥  $1446-539$

(たしかめ)




⑦  $1113-427$

(たしかめ)



⑧  $1203-638$

(たしかめ)



- 2 よし子さんの学校の男の子は623人、女の子は612人です。  
みんなで何人でしょうか。

(しき)

答え

---

- 3 まきさんの学校には1248人の子どもがいます。そのうち、  
兄弟のいる人は523人です。兄弟のいない人は何人でしょうか。

(しき)

答え

---

- 4 4000円のセーターと2000円のズボンを買って、1万円さつを  
出しました。

- ① セーターとズボンは合わせて何円でしょうか。

(しき)

答え

---

- ② おつりは何円でしょうか。

(しき)

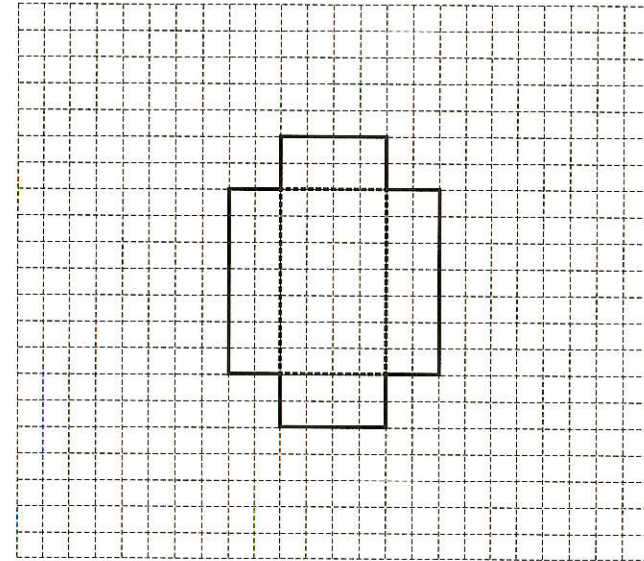
答え

---

## 13. はこの形

- 1 下の図で、たりない面を書きかして、はこの形ができるように  
しましょう。

①



②

